

تهیه کننده :
علیرضا اسماعیلی
نوروز ۹۶

یک نروزی مطالعات هشتم
درس ۱ تا ۲۰

نام و نام خانوادگی :
کلاس :
نام دبیر :



۱- هریک از اصطلاحات زیر را توضیح دهید :

الف) تنفیذ :

ب) تحلیف :

ج) بودجه :

۲- گزینه ی صحیح را انتخاب کنید:


- ۱) نوجوانان گروه سنی ----- تا ----- سال را تشکیل می دهند
- ۱) سیزده تا هفده ۲) چهارده تا بیست ۳) دوازده تا هجده ۴) یازده تا هجده
- ۲) امیرالمومنین در چه تاریخی به شهادت رسیدند ؟
- ۱) ۲۸ صفر سال ۱۱ هجری ۲) ۴۰ رمضان سال ۲۱ هجری
- ۳) ۲۱ رمضان سال ۶۱ هجری ۴) ۲۱(۴) رمضان سال ۴۰ هجری
- ۳) مغولان در زمان ----- به ایران هجوم آوردند .
- ۱) غزنویان ۲) خوارزمشاهیان ۳) سلجوقیان ۴) ایلخانان مغول
- ۴) کدام قسمت از آسیا ، منطقه ای پر کشمکش و تنش است ؟
- ۱) شمال غربی ۲) شمال شرقی ۳) جنوب غربی ۴) جنوب شرقی
- ۵) چه چیزهایی در خانواده باعث صمیمیت و محبت بیشتر بین اعضای خانواده می شود ؟
- ۱) ساده زیستی و تعاون ۲) همکاری و احساس مسئولیت ۳) همبستگی و تعاون ۴) همدلی و همکاری
- ۳- یک نمونه از تعاون را در هریک از مکان ها یا موقعیت های زیر بنویسید .

الف) در خانه :

ب) در کلاس درس :

ج) در حوادثی مثل زلزله :

۴- در هنگام عصبانیت باید چه قواعدی را رعایت کنیم؟





۵- در کنار مدرسه ای ساخت و ساز هایی انجام شده و این موضوع باعث ایجاد مشکلاتی برای دانش آموزان و مسئولان مدرسه شده است . در صورت بروز چه اتفاق هایی ممکن است یک دعوی حقوقی و یا کیفری شکل بگیرد؟

الف) دعوی کیفری :

ب) دعوی حقوقی :

۶- مطالعه درس پنجم کتاب مطالعات اجتماعی (آسیب های اجتماعی و پیشگیری از آنها) سبب شده که رضا تصمیم بگیرد در انتخاب دوستانش تجدید نظر کند.

مثال بالا بیانگر نوعی ارتباط می باشد . موارد خواسته شده را در این ارتباط بنویسید .

الف) فرستنده پیام :

ب) گیرنده پیام :

ج) رسانه :

د) بازخورد:

۷- به سوالات زیر پاسخ کوتاه دهید .

الف) هر وسیله که پیامی را از فرستنده به گیرنده منتقل کند ، چه نام دارد ؟

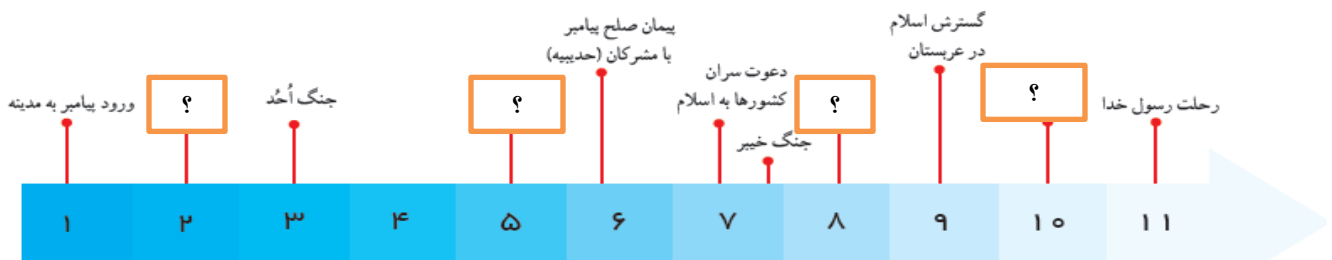
ب) در چه زمانی خلافت عباسی ضعیف شد ؟

ج) آلب ارسلان در کدام نبرد رومیان را شکست داد؟ این نبرد در چه سالی به وقوع پیوست؟

د) قاره ی آسیا از سه طرف به کدام اقیانوس ها محدود می شود ؟

ه) دو کشور مثال بزنید که از طریق تجارت و بازرگانی و یا گردشگری درآمد زیادی دارند.

۸- بر روی خط زمان زیر ، با توجه به توالی اتفاقات بعد از هجرت پیامبر(ص) در جاهای خالی کلمات مناسب بنویسید :



مهم ترین رویدادهای تاریخ اسلام از هجرت پیامبر تا رحلت آن حضرت (بر اساس سال های هجرت)



۹- سرزمین عربستان قبل از ظهور دین اسلام در هر یک اززمینه های زیر چه ویژگی هایی داشت؟

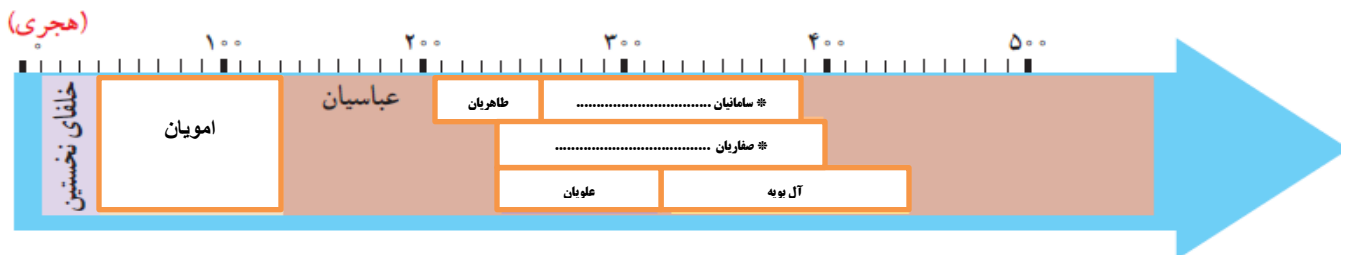
الف) شرایط اجتماعی و فرهنگی :

ب) دین :

۱۰- من کیستم؟ من چیستم؟

- الف) من دردادگاه مدارک خواهان وخوانده رامطالعه می کنم وفردی عادل وآشنا با قوانین هستم . (.....)
- ب) من کم وسعت ترین قاره ی جهان هستم . (.....)
- ج) من مهم ترین کشور صنعتی آسیا و عضو کشورهای گروه هشت هستم . (.....)
- د) من شهری کهن در کشور فلسطین هستم که مسیحیان به من اورشلیم می گویند . (.....)
- ه) من جانشین غازان خان ، و فردی هستم که پایتخت را به سلطانیه منتقل کرد . (.....)

۱۱- با توجه به خط زمان زیر به سوالات پاسخ دهید :



- الف) حکومتی را که ریشه و تبار ایرانی نداشتند با رنگ آبی نشان دهید .
- ب) حکومت هایی را که با فرمان خلفای عباسی به قدرت رسیدند را با رنگ زرد نشان دهید .
- ج) موسس سلسله هایی را که با علامت ستاره مشخص شده اند را در جاهای خالی بنویسید .

۱۲- هریک از وقایع زیر در زمان حکومت چه کسی اتفاق افتاده است؟

الف) تخریب معبد سومنات : ب) نابودی خلافت عباسی :

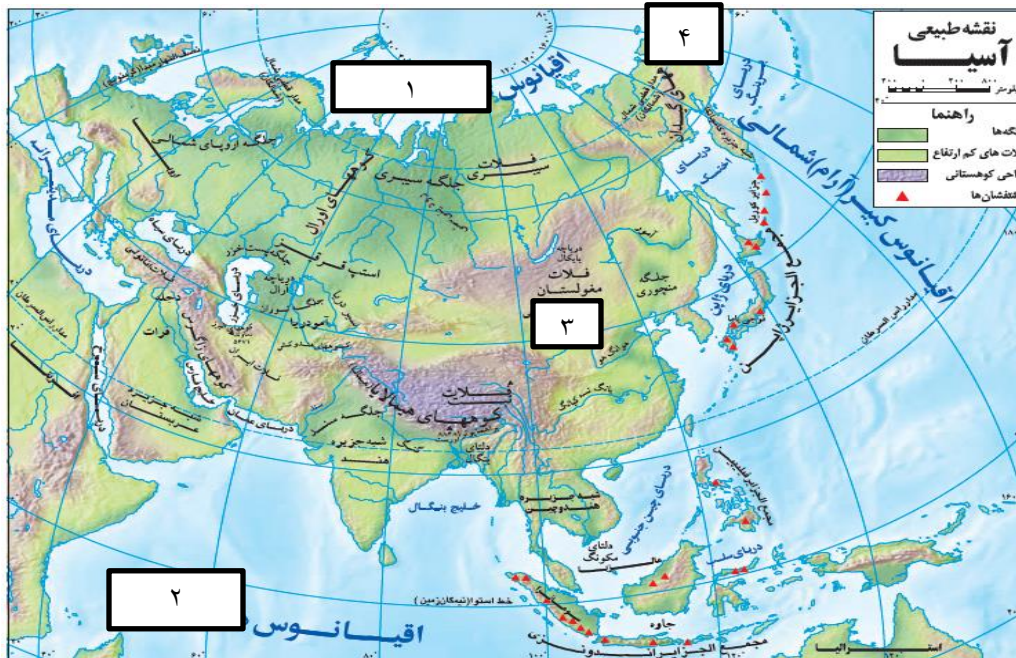
ج) احداث گنبد سلطانیه : د) شکست رومیان در نبرد ملازگرد :

۱۳- ناهمواریهای قاره آسیا را نام برده و برای هرکدام یک مثال بزنید.

.....



۱۴- با توجه به نقشه زیر به سوالات پاسخ دهید :



الف) محل تنگه برینگ را مشخص نمایید

ب) نام اقیانوس هایی را که با شماره های ۱ و ۲ مشخص شده اند را بنویسید .

ج) منطقه ای که با عدد ۳ مشخص شده چه نوع آب و هوایی دارد؟ (با توجه به نقشه صفحه ۱۱۱ کتاب)

۱۵- فاصله شهری تا ساحل دریا ، روی زمین ۶۰ کیلومتر و روی نقشه ۵ سانتی متر است . مقیاس این نقشه را به دست آورید .

.....

۱۶- بیره های اقتصادی آسیا لقب کدام یک از کشورهای جهان است؟

.....

۱۷- هریک از افراد یا خاندان های زیر در زمان کدام حکومت عهده دار وزارت بودند؟

الف) برمکیان :

ب) خاندان بلعمی :

ج) عمیدالملک گُندری :

د) خواجه رشیدالدین فضل الله همدانی :

.....

۱۸- چرا جنوب غربی آسیا منطقه ای پر تنش است؟ (۲ مورد)

.....

