

ردیف	پایه دوم درس : علوم	به نام خدا سوالات تستی	آموزگار: عاصف نعمتی پور فصل یک الی چهار
	<b>چند گزینه ای</b>		
۱	<p style="text-align: center;">ناشنوایان در استفاده از کدام عضو محرومند؟</p> <div style="display: flex; justify-content: space-around; align-items: center;"> <div style="text-align: center;">  </div> <div style="text-align: center;">  </div> <div style="text-align: center;">  </div> </div>		
۲	<p style="text-align: center;">در کدام شغل خوب شنیدن بسیار اهمیت دارد؟</p> <div style="display: flex; justify-content: space-around; align-items: center;"> <div style="text-align: center;">  </div> <div style="text-align: center;">  </div> <div style="text-align: center;">  </div> </div>		
۳	<p style="text-align: center;">کدام تصویر نشان دهنده ی مرحله ی مشاهده نمی باشد؟</p> <div style="display: flex; justify-content: space-around; align-items: center;"> <div style="text-align: center;">  <p>(۴)</p> </div> <div style="text-align: center;">  <p>(۳)</p> </div> <div style="text-align: center;">  <p>(۲)</p> </div> <div style="text-align: center;">  <p>(۱)</p> </div> </div>		
۴	<p style="text-align: center;">تصویر مقابل چه چیزی را نشان می دهد؟</p> <div style="display: flex; justify-content: space-around; align-items: center;"> <div style="text-align: center;">  </div> <div style="text-align: center;"> <p>(۱) صید بیش از اندازه ی ماهی ها</p> <p>(۲) خودکشی ماهی ها</p> <p>(۳) آلودگی آب و مرگ ماهی ها</p> <p>(۴) فرار ماهی ها از دست کوسه ها</p> </div> </div>		

۵ کدام تصویر استفاده ی درست از آب را نشان می دهد؟



(۲)



(۱)



(۴)

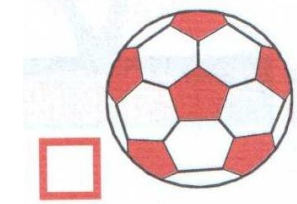




(۳)

۶ کدام شمع زیر شیشه ،زودتر خاموش می شود؟



۷ کدامیک برای زنده ماندن به آب نیاز دارد؟



۸ انسان از آب برای چه کاری استفاده می کند؟



(۲)



(۱)



(۴)



(۳)

تصویر مقابل چه چیزی را نشان می دهد؟

۹



(۲) خورشید گرفتگی

(۴) حرکت خورشید

(۱) طلوع خورشید

(۳) غروب خورشید

دماسنج در کدام یک از تصاویر زیر، دمای بیش تری را نشان خواهد داد؟

۱۰



(۲)



(۱)





(۴)



(۳)




کدام دماسنج دمای بیش تری را نشان می دهد؟

۱۱



















معمولاً در کدام ساعت روز هوا گرم تر است؟

۱۲



	<p>با توجه به تصویر کره ی زمین، مشخص کنید کدام سمت آن روز و کدام سمت شب است؟</p> <p>(۱) بخش (۱) روز و بخش (۲) شب است.  (۲) بخش (۲) روز و بخش (۱) شب است.  (۳) هر دو بخش روز است.  (۴) به علت فاصله ی زیاد زمین تا خورشید، هیچ یک از دو طرف روشن نمی شود.</p> 	۱۳
	<p>کدام تصویر، پیدایش شب و روز را درست نشان می دهد؟</p> 	۱۴
	<p>کدام جسم می تواند دمای بیش تری داشته باشد؟</p> 	۱۵
	<p>کدام شغل با بقیه متفاوت است؟</p> 	۱۶



	<p>۱۷ کدام موجود زنده می تواند گرمای شدید خورشید را تحمل کند؟</p>  (۴)  (۳)  (۲)  (۱)	۱۷
	<p>۱۸ « باد » کدام منطقه را می تواند دچار تغییرات سریع کند؟</p>  (۲)  (۱)  (۴)  (۳)	۱۸
	<p>۱۹ کدام تصویر خورشید گرفتگی را به درستی نشان می دهد؟</p>  (۴)  (۳)  (۲)  (۱)	۱۹
	<p>۲۰ برای اندازه گیری سرعت باد، از کدام وسیله استفاده می شود؟</p>  (۴)  (۳)  (۲)  (۱)	۲۰